

Exercices coefficients 2

Exercice 1 *Calculer le nouveau prix*



$$\begin{array}{ccc} \dots\dots\dots & \xrightarrow{\boxed{-5\%}} & \dots\dots\dots \\ & \times \dots\dots\dots & \\ \dots\dots\dots & & \dots\dots\dots \\ \dots\dots\dots & & \dots\dots\dots \end{array}$$

Exercice 2 *Calculer l'ancien prix*



$$\begin{array}{ccc} \dots\dots\dots & \xrightarrow{\boxed{-5\%}} & \dots\dots\dots \\ & \times \dots\dots\dots & \\ \dots\dots\dots & & \dots\dots\dots \\ \dots\dots\dots & & \dots\dots\dots \end{array}$$

Exercice 3 *Calculer l'ancien prix*



$$\begin{array}{ccc} \dots\dots\dots & \xrightarrow{\boxed{+5\%}} & \dots\dots\dots \\ & \times \dots\dots\dots & \\ \dots\dots\dots & & \dots\dots\dots \\ \dots\dots\dots & & \dots\dots\dots \end{array}$$

Exercice 4 *Calculer le nouveau prix*



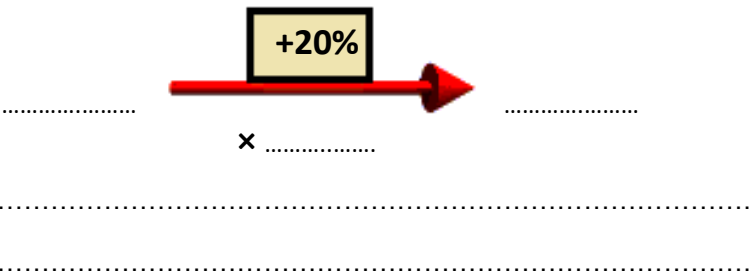
$$\begin{array}{ccc} \dots\dots\dots & \xrightarrow{\boxed{+35\%}} & \dots\dots\dots \\ & \times \dots\dots\dots & \\ \dots\dots\dots & & \dots\dots\dots \\ \dots\dots\dots & & \dots\dots\dots \end{array}$$

Exercice 5 *Calculer l'ancien prix*



$$\begin{array}{ccc} \dots\dots\dots & \xrightarrow{\boxed{+35\%}} & \dots\dots\dots \\ & \times \dots\dots\dots & \\ \dots\dots\dots & & \dots\dots\dots \\ \dots\dots\dots & & \dots\dots\dots \end{array}$$

Exercice 6 Calculer l'ancien prix




Exercice 7 La facture

Un prix HT augmente de 20% pour devenir un prix TTC.

- 1) Compléter à côté de la flèche bleue
- 2) Calculer le prix HT
- 3) Calculer le montant de la TVA

| Article | TOTAL |
|----------------------|----------|
| Téléviseur (prix HT) | € |
| TVA (20%) | € |
| TOTAL TTC | 576,00 € |


×

Exercice 8 La facture

Un prix HT augmente de 20% pour devenir un prix TTC.

- 1) Compléter à côté de la flèche bleue
- 2) Calculer le prix HT
- 3) Calculer le montant de la TVA

| Article | TOTAL |
|----------------------|----------|
| Téléviseur (prix HT) | € |
| TVA (20%) | € |
| TOTAL TTC | 399,00 € |

×