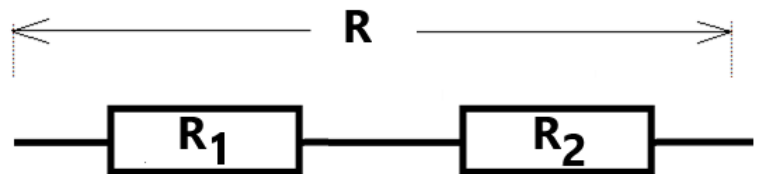
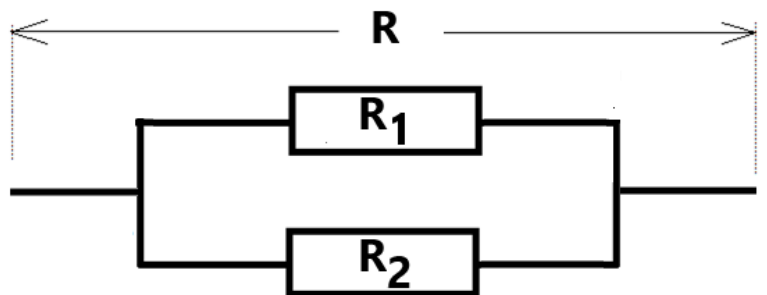


Association de Résistances électriques

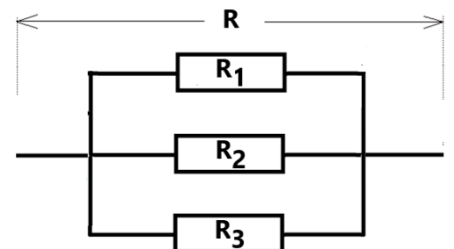
Résistances en série



Résistances en dérivation

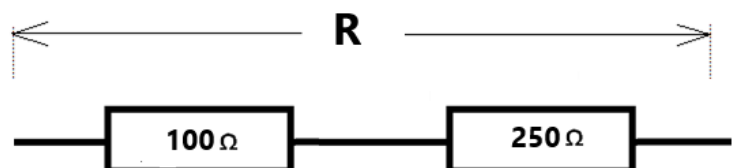


Cas de 3 résistances



Exercice 1

Calculer la résistance équivalente R



Exercice 2

Calculer la résistance équivalente R

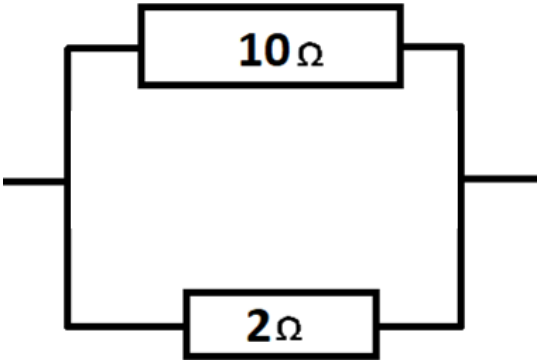
.....

.....

.....

.....

.....



Exercice 3

Calculer la résistance équivalente R

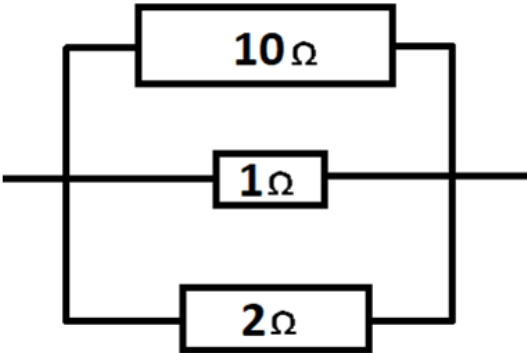
.....

.....

.....

.....

.....



Exercice 4

Calculer la résistance équivalente R

.....

.....

.....

.....

.....

.....

.....

.....

.....

